

TEMA 9: La Prehistoria.

1. Explica el proceso de hominización.

2. Pon por orden de aparición lo siguientes homínidos:

- a. Homo Erectus.
- b. Homo Neanderthalensis.
- c. Homo Habilis.
- d. Australopithecus.
- e. Homo Sapiens

1	
2	
3	
4	
5	

3. ¿Cuáles son las etapas de la Prehistoria?

4. ¿Qué significa que “los hombres del paleolítico eran depredadores”?

5. ¿Qué tipos de herramientas usaban en el paleolítico? ¿Con qué materiales las hacían?

6. ¿Qué significa que una economía es PRODUCTORA? ¿Cuándo se inician las sociedades productoras?

7. ¿Cuál fue el primer animal en domesticarse?

8. ¿Qué es un bifaz? ¿En qué etapa de la prehistoria aparecen?

9. ¿Por qué se inicia el neolítico?
 - Porque renovarse es vivir.
 - Porque hay un cambio climático.
 - Porque es la forma de no tener que salir a cazar.
 - Para tener asegurado el alimento.
10. En el neolítico aparecen avances técnicos. Explícalos.

11. ¿A qué homínido se le atribuyen las primeras muestras de arte y la capacidad de encender el fuego?

12. ¿Cuándo se inicia el arte? ¿Cómo se llama al arte que se hace en las cuevas?

13. Responde verdadero o falso:

		V	f
1.	Neolítico es una palabra compuesta que significa piedra nueva.		
2.	En el Neolítico aparecen las primeras guerras por el control del territorio.		
3.	En el neolítico parecen los primeros poblados porque la gente se vuelve nómada.		
4.	La caza desaparece cuando se inicia la producción de alimentos.		
5.	La cerámica del neolítico se hace a torno, luego se seca al sol y por fin se mete en el horno.		
6.	En el Neolítico se han encontrado pueblos de hasta 10.000 habitantes.		
7.	En el Neolítico se sustituye la talla de la piedra por el pulimentado.		
8.	Los molinos de mano servían para moler el cereal.		
9.	Çatal Hüyük es una importante ciudad neolítica.		
10.	El trueque aparece por primera vez en el neolítico.		

14. Nombra en orden las etapas en las que dividimos la Edad de los Metales.

15. Aleación significa:

- Atontado por un golpe, alorado.
- Figura retórica de dicción que consiste en la repetición de uno o varios sonidos dentro de una misma palabra o frase.
- Resultado de la mezcla de dos metales

16. Explica qué elementos favorecieron el desarrollo del comercio.

17. ¿Qué es el megalitismo?

18. ¿Cómo se construían los megalitos?

19. Explica los distintos tipos de megalitos.

20. Explica qué son las venus paleolíticas y di cómo se llama la de la imagen.



21. Metal más resistente de los usados en la Edad de los Metales.

22. Explica qué interpretaciones se dan para explicar las pinturas rupestres.



23. Contesta verdadero o falso:

		V	F
1.	Megalito significa piedra mediana.		
2.	El Menhir se utilizaba como forma de señalización de un enterramiento.		
3.	El dolmen se usa como enterramiento colectivo y aparece en el neolítico.		
4.	Las piedras de los megalitos se movían con grúas y palancas.		
5.	El cobre se usó para objetos de adorno y utensilios domésticos.		
6.	El hierro necesita altas temperaturas para trabajarse.		
7.	La escritura comienza en la Edad de los Metales.		
8.	El bronce es una aleación de hierro y cobre.		
9.	La prehistoria acaba con la llegada de los romanos a la Península Ibérica.		
10.	Los romanos pertenecen a la Edad del Hierro.		
11.	La especialización del trabajo es el resultado de la mejora de la agricultura.		
12.	La desigualdad social se da a partir de la civilización romana.		
13.	La llegada de los metales supuso el fin del uso de las herramientas de piedra.		
14.	El primer metal en usarse fue el oro.		
15.	Los metales empiezan a trabajarse en Oriente Próximo.		
16.	El campaniforme se llama así por la forma de sus cerámicas.		
17.	El menhir es una piedra hincada en el suelo.		
18.	El crómlech es un observatorio astronómico.		
19.	Se llama ajuar a los objetos que se le ponen al muerto en la sepultura: joyas, vasijas, armas...		
20.	El Argar es una cultura del Neolítico de la Península Ibérica.		

TEMA 10: Las civilizaciones fluviales.

1. ¿Dónde están situadas Mesopotamia y Egipto? ¿Qué ríos atraviesan sus territorios?
2. ¿Por qué surgieron las primeras civilizaciones cerca de los ríos?
3. Explica las tres fases del ciclo agrícola egipcio y su relación con las crecidas del Nilo. Ayúdate de la imagen que se adjunta. ¿Qué tipo de obras se llevaron a cabo para drenar el agua?



4. ¿Por qué fue en estas primeras civilizaciones (Egipto y Mesopotamia) agrícolas donde se inventó la escritura?

5. ¿Cómo se llama la escritura egipcia?

6. ¿Cómo se llama la escritura mesopotámica?

7. ¿Qué diferencias y similitudes encuentras entre ambas?

8. ¿Qué es una ciudad-estado? Dime el nombre de alguna de las que había en Mesopotamia.

9. ¿Qué es un Zigurat?

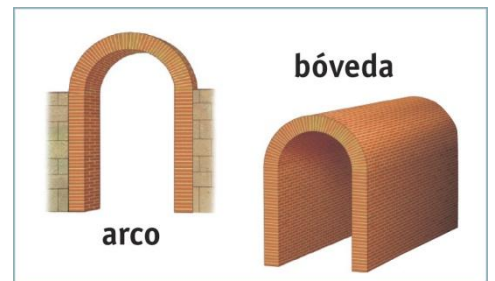
10. Ordena de la más antigua a la más moderna, las formas de gobierno en Mesopotamia:
 - Ciudades-Estado
 - Imperio Asirio
 - Imperio Babilónico
 - Reino de Akkad
 - Imperio Asirio
 - Imperio babilónico.

11. ¿Qué es un código? ¿Quién escribió el que aparece en la imagen? ¿Qué mandaba?



12. ¿Cómo se gobernaban las ciudades de Mesopotamia? ¿Qué papel tenían los sacerdotes, los funcionarios y los soldados?

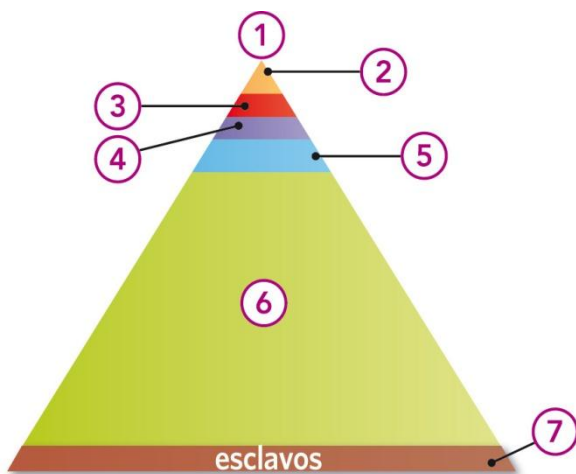
13. Describe el arco y la bóveda. ¿Qué función tenían?



14. ¿Qué reinos e imperios se instalaron en Mesopotamia? ¿Qué territorios abarcaron?

15. ¿Qué dos regiones se distinguen en Egipto?

16. Explica cómo era la sociedad egipcia: qué grupos la componían y qué funciones tenía cada uno.



17. ¿Quién era el faraón? ¿Cuál era su función?


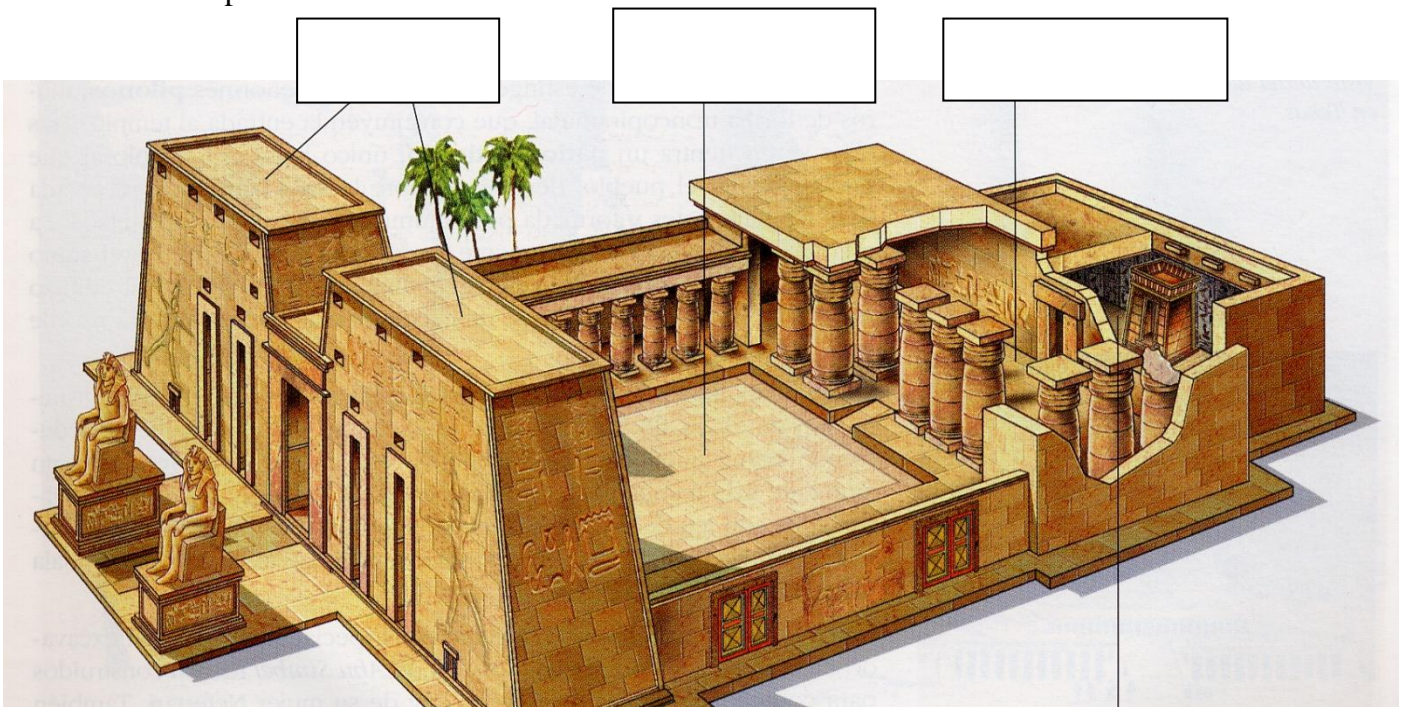
18. ¿Todos los faraones fueron hombres? Justifica tu respuesta.

19. ¿Qué significa que los egipcios eran politeístas? Di el nombre de alguno de sus dioses más importantes.

20. ¿Quién juzgaba a los muertos? ¿Qué era lo que se pesaba para saber si había sido una persona justa?

21. ¿Qué hacían los egipcios con el cuerpo del faraón muerto? ¿Por qué? ¿Cómo se accedía a la vida de ultratumba?

22. En la imagen del templo que tienes abajo sitúa: los pilonos, el patio porticado, el santuario y la sala hipóstila.



23. ¿Cuáles son los principales tipos de sepulturas que usaban los egipcios?. Explica las características de cada una de ellas.

24. Di a qué tipo corresponden cada una de estas imágenes:







TEMA 11: Grecia.

1. ¿Qué unía a los griegos de la Hélade?
2. ¿Qué lengua se hablaba en la Grecia antigua?
3. ¿Qué obras fundamentales escribió Homero? ¿De qué tratan?
4. ¿Qué eran las fiestas panhelénicas?
5. ¿Cuáles son las dos grandes polis griegas?
6. ¿Qué es una acrópolis? ¿Qué edificios se situaban en ella?

12. ¿Quiénes eran los metecos?

13. ¿Qué es un ostrakon? Busca la palabra “ostracismo” en el diccionario y di qué relación hay entre ambas.

14. ¿Por qué emigraron los griegos?

15. ¿Quiénes luchan en las “guerras médicas” ¿Y en la guerra del Peloponeso?

16. ¿Quién es Alejandro Magno? ¿Qué hizo?

17. ¿Quiénes lucharon en las guerras del Peloponeso? ¿Qué supusieron?

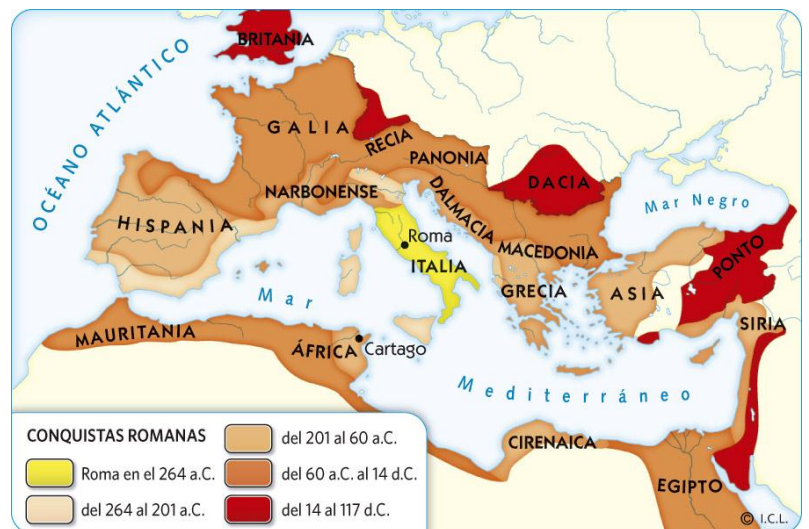
TEMA 12: Roma.



1. ¿Quiénes son Rómulo y Remo? ¿Qué relación tienen con la fundación de Roma?
2. Explica cómo se organizaba Roma durante la monarquía.
3. ¿Quiénes son los patricios?
4. ¿Quiénes son los plebeyos?
5. ¿Quién es el tribuno de la plebe? ¿Qué función tenía?

6. Explica las instituciones del gobierno republicano.

7. Explica las fases de la expansión de Roma.



8. ¿Quiénes componían el ejército romano?


9. ¿Quiénes fueron los Gracos? ¿Qué querían conseguir?

10. ¿Quién fue julio César? ¿Por qué tuvo tanta importancia?

11. ¿Qué sucedió a la muerte de julio César? ¿Quién llega al poder? ¿Qué nuevo sistema de gobierno se impone?.

12. Explica las características del periodo conocido como Pax Romana.

13. Explica los grupos que componían la sociedad romana imperial.



14. ¿Quiénes son los libertos?

15. ¿Cuál era la situación de las mujeres en Roma?

16. Explica el fin del Imperio romano.

17. Características del templo romano.

18. ¿Qué diferencias había entre el teatro griego y el romano?

19. Mira las imágenes que tienes a continuación y di qué tipo de edificios son y a qué cultura pertenecen:



